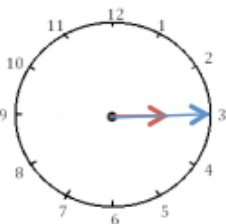
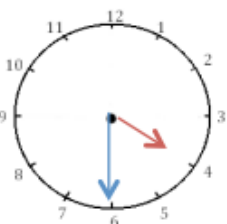


## LIRE L'HEURE :

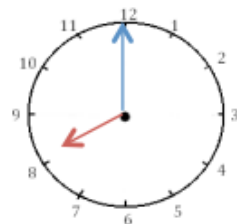
1 J'écris les heures indiquées sur ces horloges. Nous sommes le matin.



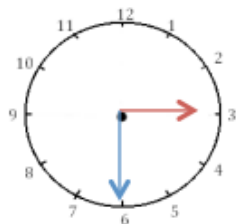
Il est \_\_\_\_\_



Il est \_\_\_\_\_

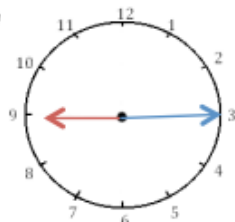


Il est \_\_\_\_\_

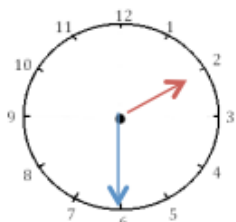


Il est \_\_\_\_\_

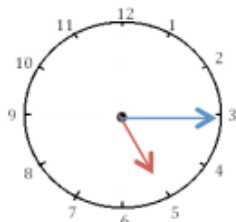
2 J'écris les heures indiquées sur ces horloges. Nous sommes l'après-midi.



Il est \_\_\_\_\_



Il est \_\_\_\_\_

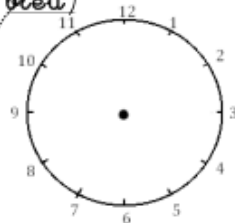


Il est \_\_\_\_\_

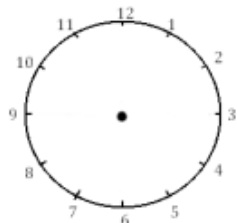


Il est \_\_\_\_\_

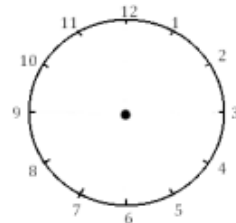
3 Je place les aiguilles selon les heures indiquées. (heures en rouge, minutes en bleu)



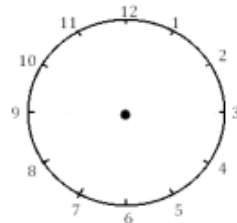
Il est 2 h 00 min.



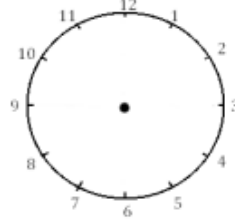
Il est 12 h 30 min.



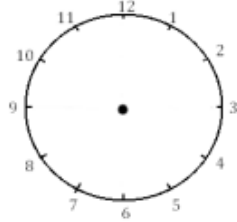
Il est 5 h 15 min.



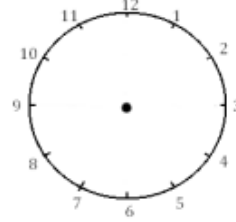
Il est 6 h et demie.



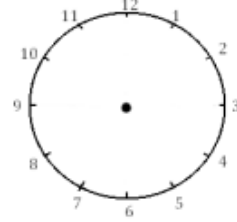
Il est 3 h et quart.



Il est 11 h 00 min.



Il est 1 h 30 min.



Il est 21 h 15 min.



1. Cherche la réponse aux problèmes suivants en utilisant ton horloge.

1 Tous les matins, Camille fait sa toilette de 7 h 30 à 7 h 45.  
Combien de temps dure sa toilette ?

.....  
.....  
.....  
.....



2 Karim est allé écouté un concert de musique classique.  
Le concert a duré 2 heures et s'est terminé à 21 h 30.  
À quelle heure le concert a-t-il commencé ?

.....  
.....  
.....  
.....



3 Trois frères, Rémi, Jules et Tom font un triathlon en relais. Rémi fait le parcours à la nage, Jules celui à vélo et Tom la course à pied. Voici le temps que chacun a mis :

Rémi  
15 min

Jules  
23 min

Tom  
18 min

Pour être qualifié pour le triathlon suivant, il faut mettre moins d'une heure. Les trois frères sont-ils qualifiés ?

.....  
.....  
.....