

MESURE

L'HEURE : LIRE L'HEURE

Après avoir regardé la vidéo suivante, tu peux faire les exercices.

<https://youtu.be/hITSP6UwO4A>


Demande à un adulte de te mettre différentes heures sur l'horloge puis lis-là. Ensuite, il doit de donner une heure et c'est à toi de placer les aiguilles correctement ! Fais ces exercices plusieurs fois.

Leçon 1 à coller dans le cahier de règles :

Mesure : L'heure


1 Je comprends : $1 \text{ h} = 60 \text{ min}$

La **grande aiguille** montre les **minutes**. Elle met 1 heure pour faire un tour complet.



La **petite aiguille** montre les **heures**. Elle avance lentement d'un nombre au suivant en 1 heure.

Il est 4 heures.



4 h 15
4 heures **et quart**

4 h 30
4 heures **et demie**

4 h 45
5 heures **moins le quart**

La **petite aiguille** est entre le 4 et le 5.

La **petite aiguille** est plus près du 5 que du 4.

MESURE

LIRE L'HEURE :

1. Colorie l'horloge qui correspond à l'heure.

①

Il est 9 heures et demie.

③

Il est 6 heures.

②

Il est 11 heures et demie.

④

Il est 10 heures et demie.

2. Colorie l'heure qui correspond à l'horloge.

midi
12h00
11h30
12h30
midi et demie









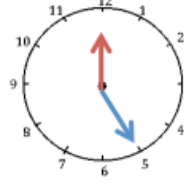

1 heure
12 heures
1 heure et demie
12h30
1h30

9h00
9h30
12h00
9 heures et demie
midi et demie

12h00
12h30
2h00
2 heures
12 heures

3. Ecris l'heure sous chaque horloge.

.....h.....min h.....min h.....min h.....min

				
h.....minh.....minh.....minh.....min
				
h.....minh.....minh.....minh.....min

4. Découpe les images d'une journée de classe, puis remets les dans l'ordre. Regarde ensuite la vidéo suivante.

<https://youtu.be/rhAticOjzZE>

5. Relie les images à l'heure correspondante.



•



•



•

• 19h30

• 8h30

• 16h30

• 20h30

• 12h00

• 7h30

•

•

•



6. Découpe et colle la leçon 2 sur le cahier rouge en suivant le modèle.

Images à découper :

